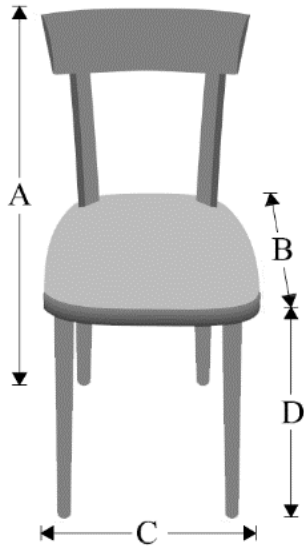


Pag. 13 quesito 62 "Nacque in provincia di Bergamo" si legga: Nacque a Milano

Pag. 67 quesito 18 è modificato come segue:

In una sedia generica, come quella in figura, quali sono le corrette dimensioni (in cm)?

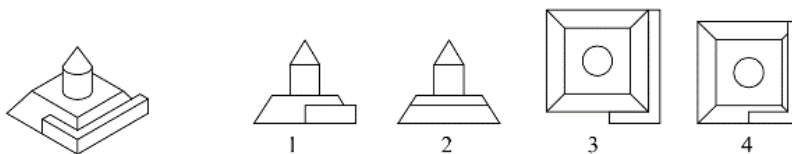


- A. A = 90; B = 65; C = 60; D = 60
- B. A = 50; B = 50; C = 40; D = 40
- C. A = 90; B = 48; C = 48; D = 45
- D. A = 102; B = 57; C = 45; D = 35

Pag. 68 quesito 22 "D. 86 m" si legga: D. 86 cm

Pag. 106 quesito 180 è così modificato:

180) Dato un oggetto tridimensionale, associare le corrispondenti proiezioni ortogonali.

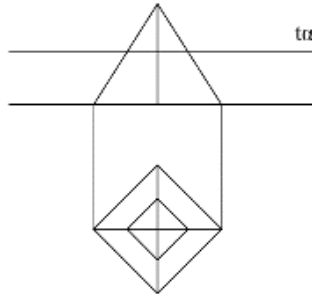


- A. 1 - 2 - 4
- B. 1 - 3
- C. 2 - 3
- D. 1 - 4

Pag. 116 quesito 208 è così modificato:



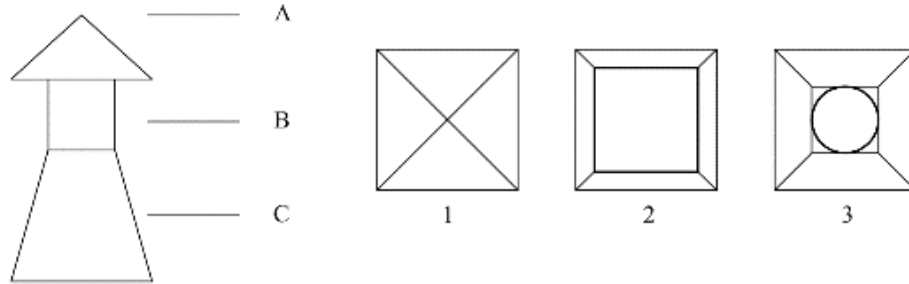
208) Quale di queste affermazioni è corretta?



- A. La figura rappresenta un tetraedro
- B. La figura è secata da una retta
- C. La figura è secata da un piano parallelo al piano orizzontale
- D. La figura è secata da un piano parallelo al piano verticale

Pag. 119 quesito 214 è così modificato:

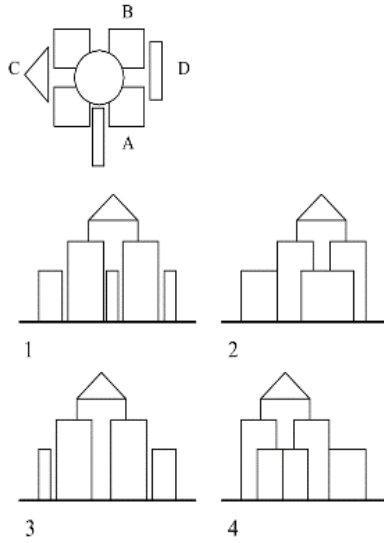
214) Dato il prospetto associare le piante alle tre quote.



- A. 1 - A; 2 - C; 3 - B
- B. 1 - A; 2 - B; 3 - C
- C. 1 - B; 2 - A; 3 - C
- D. 1 - C; 2 - A; 3 - B

Pag. 120 quesito 217 è così modificato:

217) Data la pianta di una figura tridimensionale, associare correttamente i quattro prospetti.



- A. 1 - D; 2 - A; 3 - B; 4 - C
- B. 1 - A; 2 - C; 3 - B; 4 - D
- C. 1 - C; 2 - A; 3 - D; 4 - B
- D. 1 - A; 2 - D; 3 - B; 4 - C

Pag. 67 commento quesito 18 è modificato come segue:

Tra le alternative proposte, le misure corrette per la realizzazione di una sedia generica sono 90 cm per l'altezza complessiva (A), 45 cm per l'altezza della seduta (D) e 48 cm per la larghezza e la profondità (C e B).

Pag. 154 quesito 178 la risposta esatta è: D

Pag. 158 commento quesito 208 è così modificato: 208) C. La figura tridimensionale (una piramide a base quadrata) è attraversata da un piano a parallelo al piano orizzontale: la sua unica traccia, sul piano verticale, infatti, risulta parallela alla linea di terra.

Pag. 159 commento quesito 217 è così modificato:

217) D. Si dà una rappresentazione grafica dell'associazione tra pianta e prospetti 1-A, 2-D, 3-B, 4-C.

