

Errata corrige – EdiTEST Esercizi Architettura E5 (ISBN 9788865844182)

Pag. 22 – Il testo corretto del quesito n. 192 è il seguente:

192) Quale, tra le frasi seguenti, contiene un errore ortografico?

- A. Gli antichi Romani si interrogavano su quale fosse lo strumento migliore per distruggere Cartagine
- B. Gli antichi Romani si domandavano quale fosse lo strumento migliore per distruggere Cartagine
- C. Gli antichi Romani si domandavano qual'era lo strumento migliore per distruggere Cartagine
- D. Gli antichi Romani si chiedevano quale fosse lo strumento migliore per distruggere Cartagine
- E. Gli antichi Romani si chiedevano qual era lo strumento migliore per distruggere Cartagine

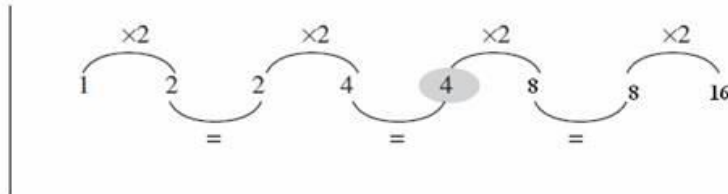
La risposta corretta e il commento al quesito indicati a pagina 143 restano entrambi validi.

Pag. 140 – Il testo corretto del commento al quesito n. 159 è il seguente:

159) C. L'attività dell'agricoltore è la coltivazione così come la navigazione lo è del marinaio.

Pag. 163 – La risposta corretta al quesito n. 418 resta valida; la spiegazione esatta è riportata di seguito

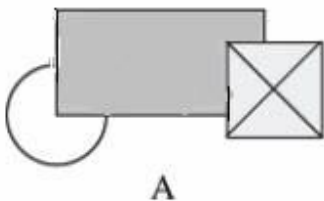
418) E.



Pag. 460 - La risposta corretta al quesito n. 24 è la D. Il testo corretto del commento è il seguente:

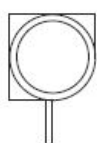
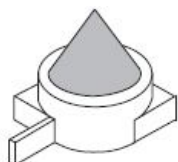
24) D. La figura M' deriva da una rotazione attorno ad un punto (non indicato) o centro. In tal caso la simmetria è centrale. La risposta corretta è dunque la D.

Pag. 465 – L'immagine corretta della figura A del quesito n. 5 è la seguente:



La risposta e il commento forniti a pag. 505 restano entrambi validi.

Pag. 469 - L'immagine corretta del quesito n. 14 è la seguente:



1



2



3



4

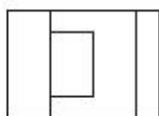


5

La risposta e il relativo commento sono così modificati:

14) A. Le proiezioni ortogonali del solido dato sono rappresentate dalla figura 1 (proiezione orizzontale o pianta), dalla figura 2 (proiezione verticale o prospetto) e dalla figura 3 (proiezione laterale). La risposta esatta è dunque la A.

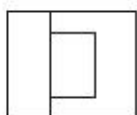
Pag. 474 - L'immagine corretta del quesito n. 23 è la seguente:



1



2



3



4



5

La risposta corretta riportata a pag. 506 resta valida mentre il commento è così modificato:

23) C. Il solido rappresentato ha come proiezioni ortogonali la figura 1 (pianta), la figura 2 (vista laterale) e la figura 4 (vista frontale).

Pag. 505 - La risposta corretta al quesito n. 9 è la E. Il testo del commento è così modificato:

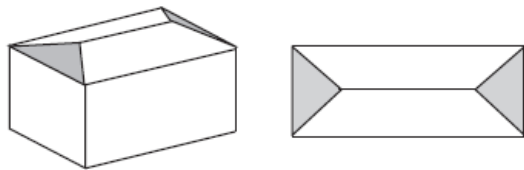
9) E. I piani che bisecano gli spigoli sono quattro. Ogni faccia triangolare del tetraedro conserva una porzione triangolare i cui vertici coincidono con le mediane degli spigoli del tetraedro originario. Dal taglio si definiscono poi altre quattro facce triangolari. La risposta esatta è dunque "ottaedro".

Pag. 536 - La risposta corretta al quesito n. 13 è la D. Il testo del commento è così modificato:

13) D. Si tratta di un rapporto di riduzione: $u - ux'$ è la misura di quanto sia stata ridotta l'unità a seconda dell'inclinazione assonometrica adottata.

Pag.559 - Il testo corretto del quesito n. 12 è il seguente:

12) Come viene definita questa struttura per copertura inclinata?



- B. Tetto a capanna
- C. Copertura a quattro falde
- D. Copertura a padiglione
- E. Copertura a più falde successive